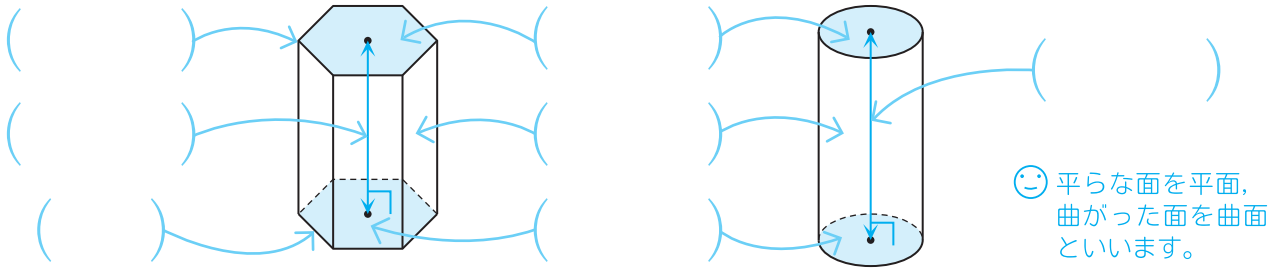


# 19 角柱と円柱についてまとめよう

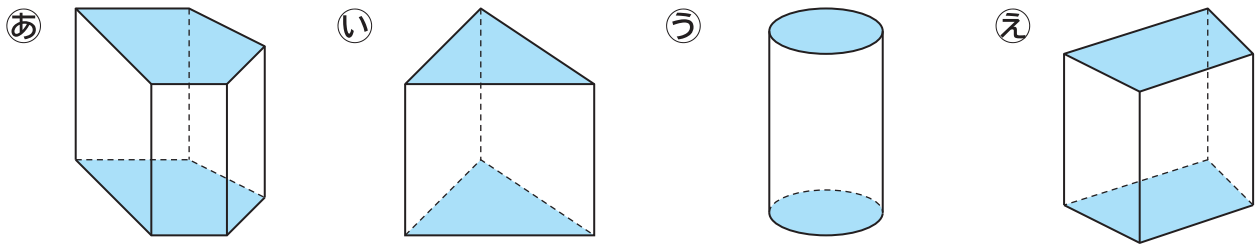
学 習 した日  月  日

## たしがめよう

★ ( ) にあてはまることばを書き、角柱と円柱についてまとめましょう。



1 次の立体で、色がついている面は、それぞれ平行で、形も大きさも同じです。



(1) あ～えの立体の名前を書きましょう。

あ ( )    い ( )    う ( )    え ( )

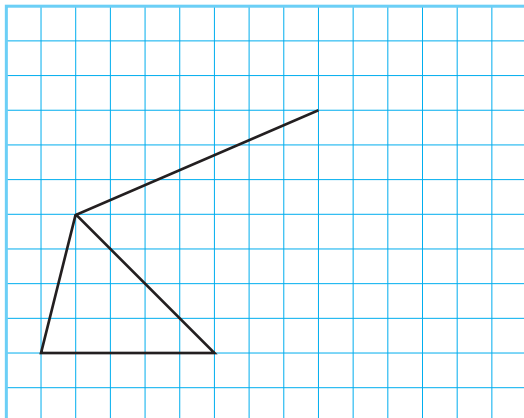
(2) 角柱の頂点・辺・面の数を表に書き入れましょう。☺ 図のあ～えを見て考えよう！

★ できたらすごい!!

	三角柱	四角柱	五角柱	……	八角柱
頂点の数				……	
辺の数				……	
面の数				……	

2 図を完成させましょう。

① 三角柱の見取図



② 三角柱の展開図

☺ 同じ長さにするときは、コンパスを使うといいよ。

