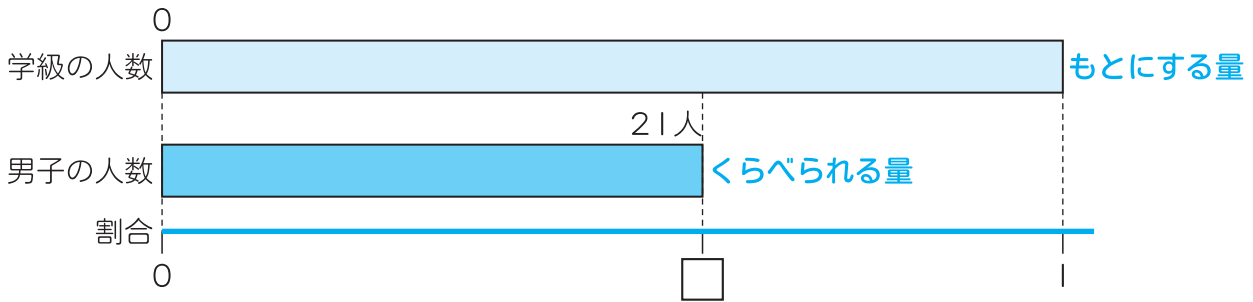


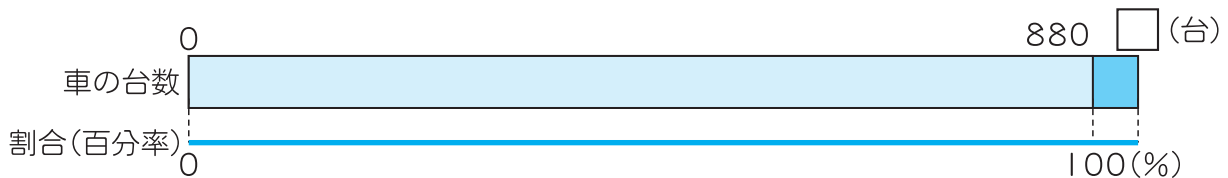
3 ゆうじさんの学級は、男子が21人で、女子が14人です。学級全体に対する男子の割合を、小数と百分率で表しましょう。



式

答え 小数 百分率

4 えみさんは、夏休みの研究で、平日と休日に1時間ずつ交通量調査をしました。平日は、1時間に880台の車が通りました。休日は、平日より車の台数が5%増えました。休日は1時間で車が何台通りましたか。

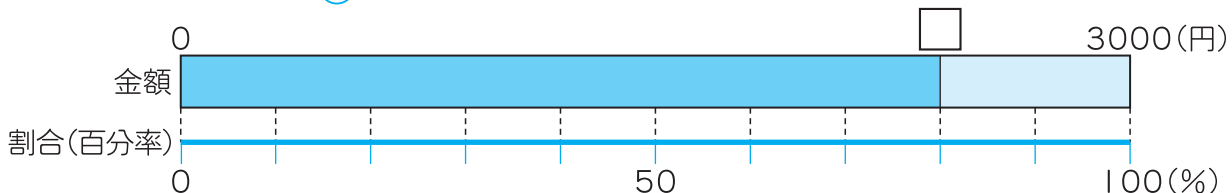


式

答え

5 ゆいさんの家の近くのくつ屋で、安売りをしています。ゆいさんのお父さんは、定価3000円のくつを20%引きで買いました。くつの代金は何円ですか。

😊「定価の○%引き」の問題では、売り値は、定価の○%を定価からひいた金額だよ。



式

答え